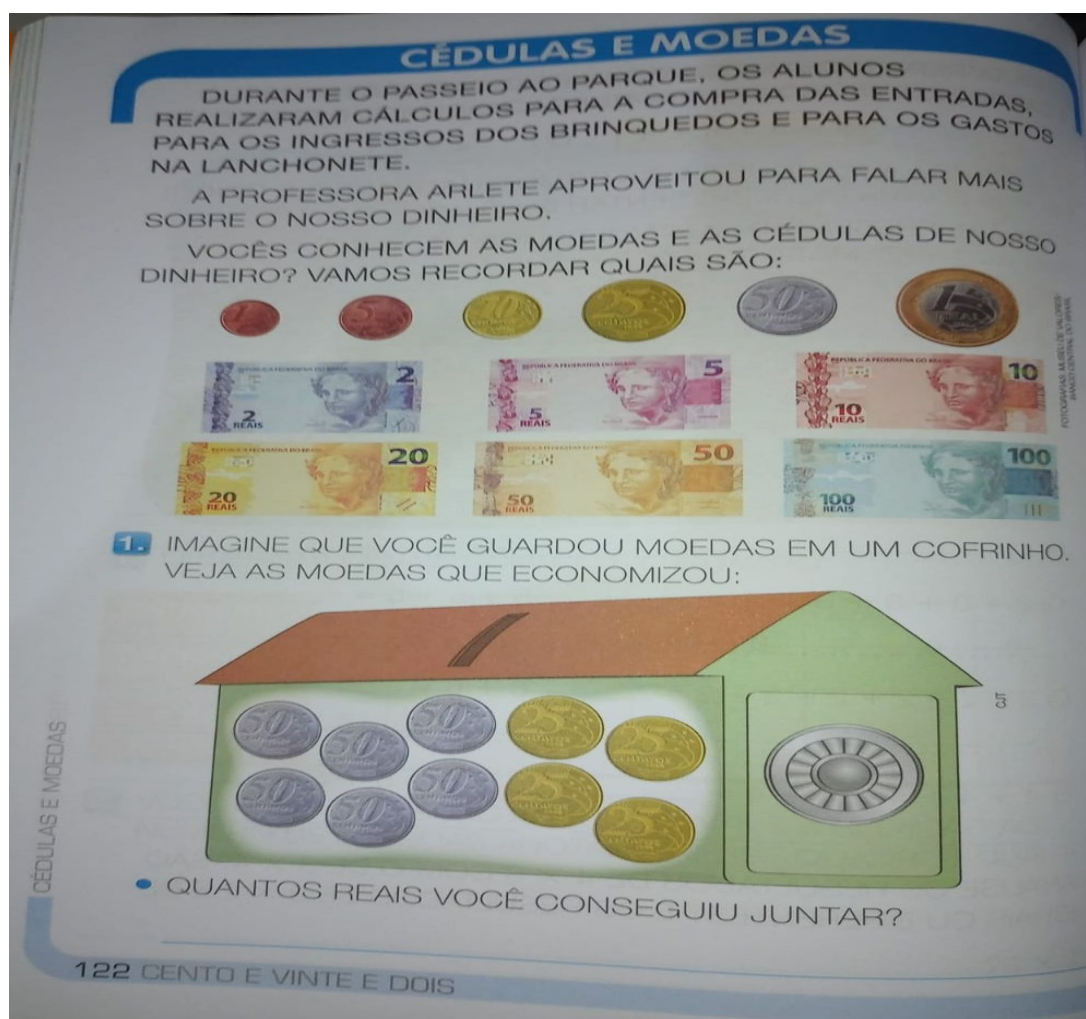


ESCOLA MUNICIPAL ENGENHEIRO CARLOS ROHM – UNIDADE I		
Nome do aluno:		SEMANA 33 03 A 05/11/2021
Professor: Denise, Cintia, Dayane e Ana	Data: 04/11/2021 QUINTA-FEIRA	Turma: 2º Anos A, B, C e D
Componente Curricular: Matemática	Entrega: Enviar no e-mail da professora até 05/11.	

ATIVIDADE DE MATEMÁTICA

1- LIVRO DE MATEMÁTICA PÁGINA 122

ASSISTA O VÍDEO EXPLICATIVO DA SUA PROFESSORA.



CÉDULAS E MOEDAS

DURANTE O PASSEIO AO PARQUE, OS ALUNOS REALIZARAM CÁLCULOS PARA A COMPRA DAS ENTRADAS, PARA OS INGRESSOS DOS BRINQUEDOS E PARA OS GASTOS NA LANCHONETE.

A PROFESSORA ARLETE APROVEITOU PARA FALAR MAIS SOBRE O NOSSO DINHEIRO.

VOCÊS CONHECEM AS MOEDAS E AS CÉDULAS DE NOSSO DINHEIRO? VAMOS RECORDAR QUAIS SÃO:

1. IMAGINE QUE VOCÊ GUARDOU MOEDAS EM UM COFRINHO. VEJA AS MOEDAS QUE ECONOMIZOU:

• QUANTOS REAIS VOCÊ CONSEGUIU JUNTAR?

122 CENTO E VINTE E DOIS

NÃO HÁ NECESSIDADE DE FAZER A IMPRESSÃO DA ATIVIDADE, ELA PODE SER REALIZADA NO CADERNO.


ATIVIDADE DE MATEMÁTICA

2- LIVRO DE MATEMÁTICA PÁGINA 123


CÉDULAS E MOEDAS

2. COMPLETE O VALOR OBTIDO COM AS CÉDULAS EM CADA QUADRO.


A




B




C



D



E



3. QUANTAS CÉDULAS DE 5 REAIS SÃO NECESSÁRIAS PARA COMPLETAR 40 REAIS? _____

4. ENZO GOSTA DE GUARDAR SEU DINHEIRO EM UM COFRINHO. ELE GANHOU 2 REAIS DE SUA AVÓ E QUER TROCAR POR MOEDAS DE 25 CENTAVOS. QUANTAS MOEDAS ELE TERÁ AO FAZER A TROCA? _____

FOTOGRAFIAS: MESSI DE VALORES / BANCO CENTRAL DO BRASIL

CENTO E VINTE E TRÊS 123