


ESCOLA MUNICIPAL ENGENHEIRO CARLOS ROHM – UNIDADE I		
Nome do aluno:		SEMANA 32 25 A 29/10/2021
Professor: Denise, Cintia, Dayane e Ana	Data: 28/10/2021 QUINTA-FEIRA	Turma: 2º Anos A, B, C e D
Componente Curricular: Matemática	Entrega: Enviar no e-mail da professora até 29/10.	

ATIVIDADE DE MATEMÁTICA

1. OBSERVE A FAZENDA ONDE VIVE A GALINHA CHOCA:



PINTE A RESPOSTA CORRETA.

O TELHADO TEM O FORMATO DE UM:

QUADRADO RETÂNGULO
CÍRCULO TRIÂNGULO

O SOL TEM O FORMATO DE UM:

QUADRADO RETÂNGULO
CÍRCULO TRIÂNGULO


O CORPO DO CAVALO TEM O FORMATO DE UM:

QUADRADO RETÂNGULO
CÍRCULO TRIÂNGULO


E A ÁRVORE TEM O FORMATO DE UM:

QUADRADO RETÂNGULO
CÍRCULO TRIÂNGULO


2. QUE TAL DESENHAR A QUANTIDADE DE OVOS CERTINHA NOS NINHOS?




25



10

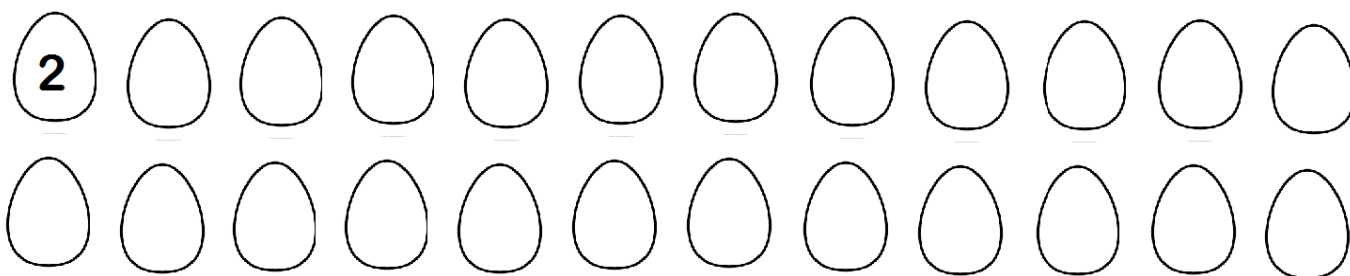


18




20

3. VAMOS AJUDAR A GALINHA CHOCA A CONTAR SEUS OVOS, NUMERANDO-OS DE 2 EM 2?



AGORA DE 3 EM 3:



4. OBSERVE A SEQUÊNCIA E DIGA QUEM É O PRÓXIMO:

