

ESCOLA MUNICIPAL ENGENHEIRO CARLOS ROHM I

Nome do aluno:	Data: 03/11/2021	Semana:
Professor: Andréia F, Cilene, Eliane e Marina	Turma: 3.º Anos: A,B,C e D	33
Componentes Curriculares: Matemática	Entregar: Via E-mail até dia 04/11/21	

MATEMÁTICA

1- OBSERVE OS NÚMEROS CORRESPONDENTES A CADA MONSTRINHO E ORGANIZE EM ORDEM CRESCENTE ESCRIVENDO-OS DENTRO DOS POTES:



4



20



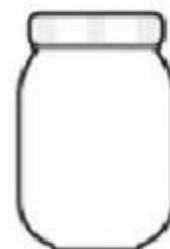
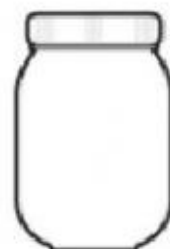
15



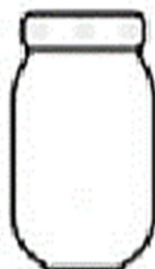
12



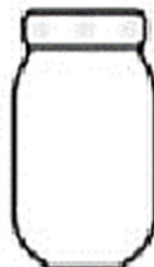
7



2) QUAL O MENOR NÚMERO?



3) QUAL O MAIOR NÚMERO?




ESCOLA MUNICIPAL ENGENHEIRO CARLOS ROHM I



Nome do aluno:	Data: 04/11/2021	Semana:
Professor: Andréia F, Cilene, Eliane e Marina	Turma: 3.º Anos: A,B,C e D	33
Componentes Curriculares: Matemática	Entregar: Via E-mail até dia 05/11/21	

MATEMÁTICA

1- OBSERVE OS NÚMEROS INDICADOS NAS ETIQUETAS E CALCULE.



2- PINTE O GRÁFICO DE ACORDO COM A QUANTIDADE DE CADA MONSTRINHO



ESCOLA MUNICIPAL ENGENHEIRO CARLOS ROHM I

Nome do aluno:	Data: 05/11/2021	Semana:
Professor: Andréia F, Cilene, Eliane e Marina	Turma: 3.º Anos: A,B,C e D	33
Componentes Curriculares: Língua Portuguesa	Entregar: Via E-mail até dia 08/11/21	

LÍNGUA PORTUGUESA

OBSERVE AS CRIANÇAS E LIGUE AO SENTIMENTO CORRESPONDENTE.

