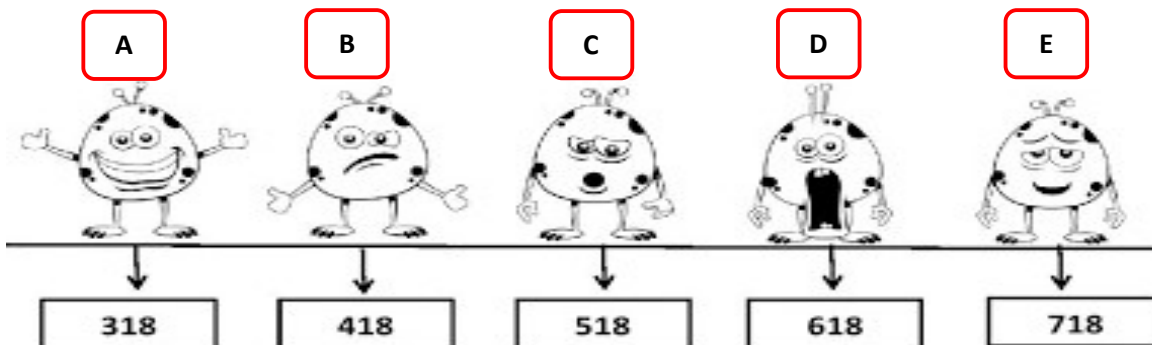


**ESCOLA MUNICIPAL ENGENHEIRO CARLOS ROHM I**

Nome do aluno:	Data: 04/11/2021	Semana: <b>33</b>
Professor: Andréia F, Cilene, Eliane e Marina	Turma: 3.º Anos: A,B,C e D	
Componentes Curriculares: Matemática	Entregar: Via E-mail até dia 05/11/21	

**Matemática**

1. Observe na linha a localização dos monstros e os números indicados.




A) Qual é a diferença entre os monstros **A** e **E** ?

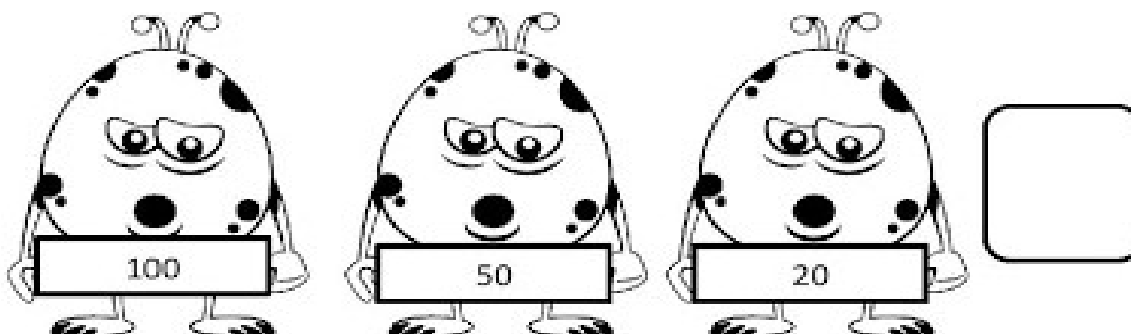
R: \_\_\_\_\_



B) Qual é o monstro que está 300 unidades antes do monstro  
Desenhe no quadro abaixo.



C) Observe os números indicados nas etiquetas e calcule a quantidade.



# Que bagunça!

2. Os monstros estão loucos, pois perderam os resultados das operações. Resolva as contas e ajude-os a encontrar cada resultado.

140

180

515

$587$	$380$	$205$	$664$	$400$	$822$
$- 72$	$- 141$	$- 25$	$- 593$	$- 260$	$- 599$



239

71

223

3. Gráfico dos monstros.

Observe e pinte o gráfico de acordo com as quantidades de cada monstro.



Qual é o total de monstros?

R: \_\_\_\_\_