

ESCOLA MUNICIPAL ENGENHEIRO CARLOS ROHM I

Nome do aluno:	Data: 25/10/2021	Semana: 32
Professor: Eliane, Marina, Cilene e Andréia F	Turma: 3.º Anos: A,B,C e D	
Componentes Curriculares: Língua Portuguesa	Entregar: Via E-mail até dia 26/10/21	

LÍNGUA PORTUGUESA



1- ASSISTA O VÍDEO DA HISTÓRIA O MONSTRO DAS CORES.

<https://www.youtube.com/watch?v=5dYNbRHJ15Q>

2- RESPONDA:

A) NO INÍCIO DA HISTÓRIA O MONSTRO ESTÁ TODO COLORIDO. POR QUÊ?

- () O MONSTRO CAIU EM VÁRIAS CORES.
- () O MONSTRO ESTAVA CONFUSO COM SUAS EMOÇÕES.
- () O MONSTRO ESTAVA SUJO.



B) NA HISTÓRIA DIZ QUE QUANDO ESTAMOS COM ELA, DESCARREGAMOS NOSSA FÚRIA NOS OUTROS. QUAL É ESSA EMOÇÃO?

- () TRISTEZA
- () MEDO
- () RAIVA



3- SEPRE AS SÍLABAS COM O NOME DAS EMOÇÕES E CONTE-AS.

ALEGRIA

--	--	--	--	--	--

TRISTEZA

--	--	--	--	--

RAIVA

--	--	--

MEDO

--	--	--

CALMA


--	--	--

ESCOLA MUNICIPAL ENGENHEIRO CARLOS ROHM I

Nome do aluno:	Data: 26/10/2021	Semana: 32
Professor: Eliane, Marina, Cilene e Andréia F	Turma: 3.º Anos: A,B,C e D	
Componentes Curriculares: Língua Portuguesa	Entregar: Via E-mail até dia 27/10/21	

LÍNGUA PORTUGUESA

1- VAMOS AJUDAR O MONSTRO DAS CORES A ORGANIZAR SUAS EMOÇÕES EM ORDEM ALFABÉTICA.



1. _____
2. _____
3. _____
4. _____
5. _____

2- PINTE O MOSNTRINHO DA ACORDO COM A EMOÇÃO QUE VOCÊ ESTÁ SENTINDO HOJE.



ESCOLA MUNICIPAL ENGENHEIRO CARLOS ROHM I

Nome do aluno:	Data: 27/10/2021	Semana: 32
Professor: Eliane, Marina, Cilene e Andréia F	Turma: 3.º Anos: A,B,C e D	
Componentes Curriculares: Matemática	Entregar: Via E-mail até dia 28/10/21	

MATEMÁTICA

1- OBSERVE OS NÚMEROS EMBAIXO DE CADA MONSTRINHO E FAÇA CONTINHAS.



2



5



6



3



1

 +  =

 +  =

 +  =

 +  =

 +  =

 +  =

2- CONTINUE A SEQUÊNCIA DE CORES.










ESCOLA MUNICIPAL ENGENHEIRO CARLOS ROHM I

Nome do aluno:	Data: 28/10/2021	Semana: 32
Professor: Eliane, Marina, Cilene e Andréia F	Turma: 3.º Anos: A,B,C e D	
Componentes Curriculares: Matemática	Entregar: Via E-mail até dia 29/10/21	

MATEMÁTICA

1- CONTE OS MONSTROS E OS POTES, DEPOIS REGISTRE A QUANTIDADE.



1	2	3	4	5	6
---	---	---	---	---	---

ESCOLA MUNICIPAL ENGENHEIRO CARLOS ROHM I


Nome do aluno:	Data: 29/10/2021	Semana: 32
Professor: Eliane, Marina, Cilene e Andréia F	Turma: 3.º Anos: A,B,C e D	
Componentes Curriculares: Língua Portuguesa	Entregar: Via E-mail até dia 03/11/21	

LÍNGUA PORTUGUESA

1- ENCONTRE NO DIAGRAMA AS EMOÇÕES DO MONSTRINHO.



ALEGRIA



TRISTEZA



RAIVA



MEDO



CALMA

ASDFEALEGRACVRETYUOPI
 AXCVBTFGHJCLBTRISTEZAN
 SVBNMKILYUIRAIVACDEWQ
 MEDOUYSWQASCVBNMKHU
 MVBNLÇYUIOPCALMAWERG

2- DESENHE O QUE VOCÊ FAZ QUANDO ESTÁ SENTINDO.

ALEGRIA



TRISTEZA



RAIVA



MEDO



CALMA

