

ESCOLA MUNICIPAL ENGENHEIRO CARLOS ROHM I

Nome do aluno:	Data: 18/10/2021	Semana: 31
Professor: Eliane, Marina, Cilene e Andréia F	Turma: 3.º Anos: A,B,C e D	
Componentes Curriculares: Projeto Segue Língua Portuguesa e Matemática	Entregar: Via E-mail até dia 22/10/21	

PROJETO SEGUE LÍNGUA PORTUGUESA

1. LEIA A PARLENDIA.

A GALINHA DO VIZINHO

A GALINHA DO VIZINHO.
BOTA OVO AMARELINHO

BOTA UM
BOTA DOIS
BOTA TRÊS
BOTA QUATRO
BOTA CINCO
BOTA SEIS
BOTA SETE
BOTA OITO
BOTA NOVE
BOTA DEZ.




2. QUAL TIPO DE ANIMAL É A GALINHA DO VIZINHO?


() MAMÍFERO () AVE

3. QUE OUTRAS AVES QUE VOCÊ CONHECE E QUAIS SÃO SUAS CARACTERÍSTICAS?

RECORTE OU DESENHE ABAIXO AS AVES. .




4. DÊ UM NOME PARA A GALINHA DO VIZINHO.



4. FAÇA COM CARIMBO DE MÃO UMA GALINHA DO VIZINHO.


VOCÊ PODE USAR TINTA OU DESENHAR COM LÁPIS DE COR OU GIZ DE CERA, DEPOIS DESENHE A CRISTA, OS OLHOS, O BICO E OS PÉS PARA COMPLETAR A GALINHA.

BOA DIVERSÃO.




MATEMÁTICA

1. REPRESENTE O NUMERAL DE ACORDO COM A LEITURA DA PARLENDA:




A GALINHA DO VIZINHO.
BOTA OVO AMARELINHO.
BOTA UM, _____
BOTA DOIS, _____
BOTA TRÊS, _____
BOTA QUATRO, _____
BOTA CINCO, _____
BOTA SEIS, _____
BOTA SETE, _____
BOTA OITO, _____
BOTA NOVE, _____
BOTA DEZ! ... _____

2. CONTE E REGISTRE A QUANTIDADE DE OVOS EM CADA QUADRO:



3. DESENHE MEIA DÚZIA DE OVOS:



4. CONTINUE A NUMERAR.

