

**ESCOLA MUNICIPAL ENGENHEIRO CARLOS ROHM I**

Nome do aluno:	Data: 19/10/2021	Semana: <b>31</b>
Professor: Eliane, Marina, Andréia F e Cilene	Turma: 3.º Anos: A,B,C e D	
Componentes Curriculares: Língua Portuguesa e matemática	Entregar: Via E-mail até dia 20/10/2021	

Língua Portuguesa

**GALINHA  
DESAPARECIDA**



**GALINHA**

BRANCA, COM  
PENAS, BOTAVA  
OVOS DE OURO,

DESAPARECIDA  
DESDE QUE FOI À  
CASA DO  
CAMPONÊS.

**RECOMPENSA  
BOAS NOTAS**

QUALQUER INFORMAÇÃO LIGUE:

**123-456-7890**

1) Observe esse CARTAZ, pense e responda:

Do que se trata?

- ( ) Anúncio de Vendas.
- ( ) Informação de um evento.
- ( ) Aviso de Desaparecimento.

Quais as informações que podemos entender só de olhar as imagens e ler as escritas?

---

---

---

Na parte de debaixo do cartaz tem alguns números, você consegue descobrir o que são esses números?


---

---

2) Veja outros tipos de cartazes. OBSERVE COM ATENÇÃO!


Página 186 somente leitura.






Página 187 faça a atividade.



## Matemática

Na fazenda do vovô João, havia um galinheiro cheio de ovos, galinhas, galos e pintinhos. Observe a imagem abaixo e responda:



- A) Quantos  estão no chão? \_\_\_\_\_
- B) Quantos  estão no ninho? \_\_\_\_\_
- C) Quantas  têm no galinheiro do vovô João? \_\_\_\_\_
- D) E quantos  têm? \_\_\_\_\_
- E) Quantos  têm nos ninhos? \_\_\_\_\_
- F) Ao todo, quantas aves que vovô João tem no galinheiro? \_\_\_\_\_

