




ESCOLA MUNICIPAL ENGENHEIRO CARLOS ROHM – UNIDADE I		
NOME DO ALUNO:		SEMANA 31 18 a 22/10/2021
PROFESSORAS: ANA, DAYANE, DENISE, CINTIA.	PROJETO SEGUE	TURMA: 2º ANOS A, B, C E D.
COMPONENTE CURRICULAR: LÍNGUA MATEMÁTICA	ENTREGA: ENVIAR NO E-MAIL DA PROFESSORA.	


ATIVIDADE DE MATEMÁTICA


1. DESENHE PINGOS DE ACORDO COM OS NUMERAIS EM DESTAQUE.






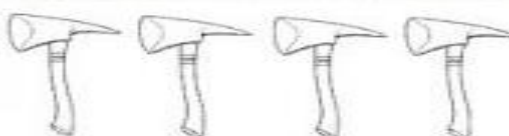












CONTE E REGISTRE NO QUADRINHO.





QUANTOS CAPACETES?



2. OBSERVE O CALENDÁRIO E FAÇA O QUE SE PEDE:



OUTUBRO
2021



DOM	SEG	TER	QUA	QUI	SEX	SÁB
					1	2
3	4	5	6	7	8	9
10	11	12	13	14	15	16
17	18	19	20	21	22	23
24 31	25	26	27	28	29	30

- A) PINTA DE VERMELHO OS DIAS QUE CAÍRAM NO DOMINGO.
- B) PINTA DE AMARELO O DIA QUE COMEÇOU O MÊS.
- C) QUAL É O ANO?
- D) QUAL É O MÊS?