

ESCOLA MUNICIPAL ENGENHEIRO CARLOS ROHM – UNIDADE I

Nome do aluno:		SEMANA 31 18 A 22/10/2021
Professor: Denise, Cintia, Dayane e Ana	Data: 21/10/2021 QUINTA-FEIRA	Turma: 2º Anos A, B, C e D
Componente Curricular: Matemática	Entrega: Enviar no e-mail da professora até 22/10.	

ATIVIDADE DE MATEMÁTICA

SITUAÇÕES PROBLEMAS

1. A PROFESSORA MÁRCIA TINHA 18 LÁPIS DE COR. NUMA SEMANA PERDEU 7 LÁPIS. COM QUANTOS LÁPIS A PROFESSORA MÁRCIA FICOU?



2. CECÍLIA É CONFEITEIRA, ELA RESOLVEU ORGANIZAR A FESTA DE ANIVERSÁRIO DA SUA FILHA. ELA CONVIDOU 23 AMIGOS PARA A FESTA. FORAM APENAS 11 AMIGOS. QUANTOS AMIGOS FALTARAM?



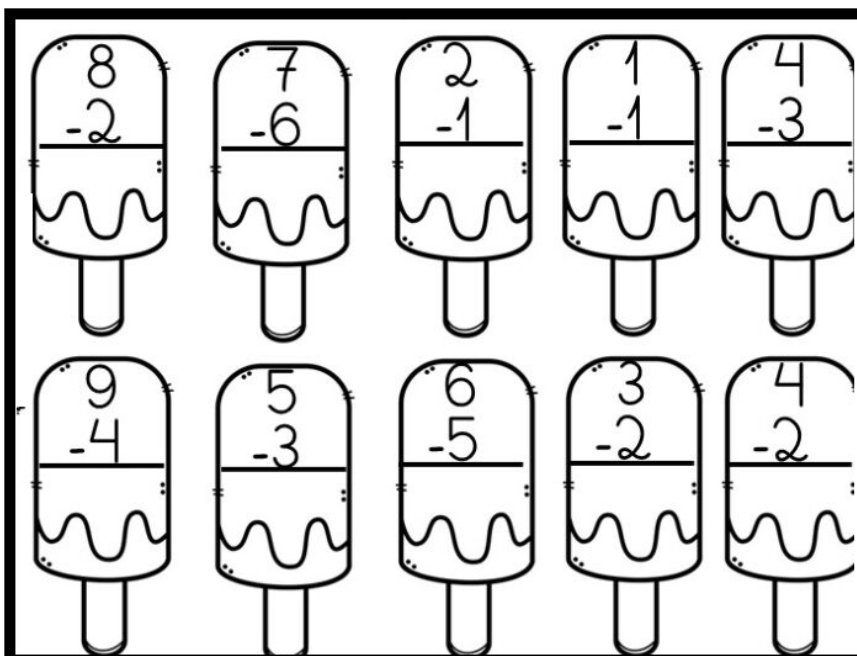
3. CARLOS É VETERINÁRIO E ESTA ORGANIZANDO UMA FEIRA DE ADOÇÃO DE ANIMAIS. UMA ADOÇÃO RESPONSÁVEL, COM PESSOAS QUE REALMENTE AMAM OS ANIMAIS. ELE CONSEGUIU DOAR 15 FILHOTES DE GATOS E 13 FILHOTES DE CACHORROS. QUANTOS ANIMAIS CARLOS CONSEGUIU DOAR?




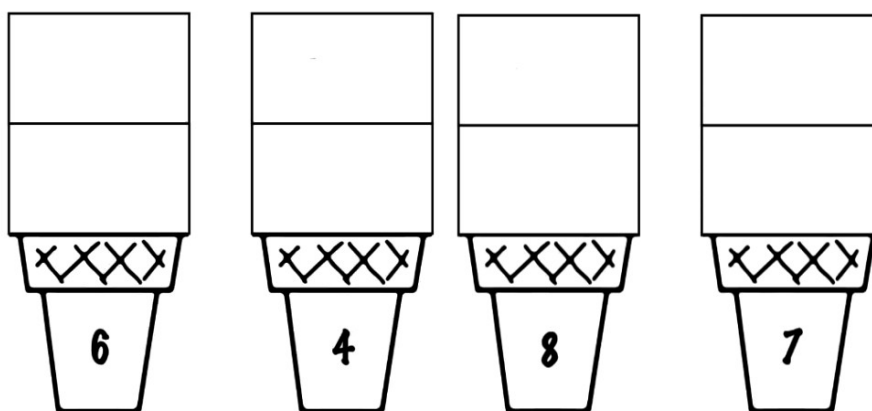
NÃO HÁ NECESSIDADE DE FAZER A IMPRESSÃO DA ATIVIDADE, ELA PODE SER REALIZADA NO CADERNO.



4. AJUDE O SORVETEIRO A RESOLVER AS SUBTRAÇÕES:



5. AGORA AJUDE O SORVETEIRO A MONTAR OS SORVETES, MAS PARA ISSO VOCÊ PRECISA REALIZAR AS ADIÇÕES, DEPOIS COLOQUE O SORVETE NAS CASQUINHAS COM RESULTADO CORRETO.



NÃO HÁ NECESSIDADE DE FAZER A IMPRESSÃO DA ATIVIDADE, ELA PODE SER REALIZADA NO CADERNO.