

Escola: E. M. Prof. Antônio Lacerda Bacellar

Nome do aluno:

Data: 18/10/2021

Semana: 31

Professora: Verônica

Turma: 3º ano

Componente Curricular: Língua Portuguesa

Entregar: Tirar foto e encaminhar para a professora

ATIVIDADES ADAPTADAS

Habilidades: (EF02LP06) Perceber o princípio acrofônico que opera nos nomes das letras do alfabeto.

Orientações para desenvolver a atividade.


COMPLETE AS PALAVRAS COM AS VOGAIS. EM SEGUIDA ESCREVA NO CADERNO E SEPRE AS SÍLABAS. FAÇA A LEITURA DAS PALAVRAS.

COMPLETE AS PALAVRAS COM AS VOGAIS:

A - E - I - O - U



___ VO



___ LHA



___ SA



___ STRELA



___ VESTRUZ




___ VA




___ RSO



___ CULOS



___ LEFANTE



___ BELHA



___ GREJA



___ LHO

Escola: E. M. Prof. Antônio Lacerda Bacellar

Nome do aluno:

Data: 20/10/2021

Semana: 31

Professora: Verônica

Turma: 3º ano

Componente Curricular: Língua portuguesa

Entregar: Tirar foto e encaminhar para a professora

ATIVIDADES ADAPTADAS

Habilidades: (EF01LP08) Relacionar elementos sonoros (sílabas, fonemas, partes de palavras) com sua representação escrita.

Orientações para desenvolver a atividade.

1- LIGUE CADA DESENHO A PALAVRA CORRESPONDENTE. FORME AS PALAVRAS QUE LIGOU AO DESENHO COM O AUXÍLIO DO ALFABETO MÓVEL. EM SEGUIDA LEIA AS PALAVRAS FORMADAS.

Ligue cada desenho à palavra correspondente.



LATA



ÁRVORE



DENTE



BIGODE

PEIXE



ÍNDIO



ESCADA



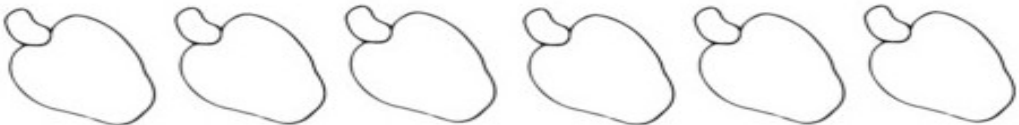





CAMA



Escola: E. M. Prof. Antônio Lacerda Bacellar		
Nome do aluno:	Data: 21/10/2021	Semana: 31
Professora: Verônica	Turma: 3º ano	
Componente Curricular: Matemática	Entregar: Tirar foto e encaminhar para a professora	
ATIVIDADES ADAPTADAS		
Habilidades: EF02MA01) Comparar e ordenar números naturais (até a ordem de centenas) pela compreensão de características do sistema de numeração decimal (valor posicional e função do zero).		
Orientações para desenvolver a atividade.		
Pinte a quantidade de frutas de acordo com o número.		



Pinte a quantidade de frutas de acordo com o numeral assinalado.

	2
	4
	1
	3
	6
	5

Escola: E. M. Prof. Antônio Lacerda Bacellar

Nome do aluno:

Data: 22/10/2021

Semana: 31

Professora: Verônica

Turma: 3º ano

Componente Curricular:
Matemática

Entregar: Tirar foto e encaminhar para a professora

ATIVIDADES ADAPTADAS

Habilidades: (EF01MA06) Construir fatos básicos da subtração e adição e utilizá-los em procedimentos de cálculo para resolver problemas.

Orientações para desenvolver a atividade.


1-RESOLVA AS OPERAÇÕES DE ADIÇÃO E SUBTRAÇÃO.

UTILIZE MATERIAIS DE APOIO PARA A RESOLUÇÃO DAS CONTAS. EXEMPLO: LÁPIS DE COR, GRÃOS DE FEIJÃO, PÁLITOS PARA CONTAGEM ENTRE OUTROS.

1) Resolva as operações e, depois, circule o resultado ao lado.

$4 + 5 =$	8
	9
	7

$4 + 3 =$	6
	8
	7



$\begin{array}{r} 7 \\ + 2 \\ \hline \end{array}$	9
	7
	6

$\begin{array}{r} 3 \\ + 2 \\ \hline \end{array}$	5
	4
	3

$\begin{array}{r} 4 \\ + 2 \\ \hline \end{array}$	5
	6
	7

$\begin{array}{r} 4 \\ + 4 \\ \hline \end{array}$	9
	7
	8

$\begin{array}{r} 6 \\ + 3 \\ \hline \end{array}$	7
	8
	9

$\begin{array}{r} 2 \\ + 6 \\ \hline \end{array}$	6
	7
	8

$\begin{array}{r} 8 \\ - 5 \\ \hline \end{array}$	2
	4
	3

$\begin{array}{r} 5 \\ - 4 \\ \hline \end{array}$	0
	1
	2

$9 - 6 =$	2
	3
	4

$5 - 0 =$	0
	5
	6

$7 - 7 =$	0
	1
	2

$8 - 4 =$	4
	3
	2

$9 - 4 =$	3
	5
	4

$6 - 5 =$	0
	1
	2