

ESCOLA MUNICIPAL ANTONIO LACERDA BACELLAR

Nome do aluno:		SEMANA: 33
Professor: MONIQUE REIS	Data: _05/_11_/2021	Turma: 2ºANO A
Componente Curricular: MATEMÁTICA	Entrega: 05/11/2021 ENVIAR FOTO DA ATIVIDADE NO WHATSAAP	

ATIVIDADE DE MATEMÁTICA:

LIVRO DE MATEMÁTICA(PÁGINA 65)











UM QUADRO NUMÉRICO

VEJA O QUADRO NUMÉRICO QUE A PROFESSORA DE MARCOS FEZ PARA PENDURAR NA SALA DE AULA. ELA USOU AS CORES AZUL E VERMELHA PARA ESCREVER OS NÚMEROS.

0	1	2	3	4	5	6	7	8	9
10	11	12		14	15	16	17	18	19
20	21	22	23	24	25		27	28	29
30	31		33	34	35	36	37	38	39
40	41	42	43	44	45	46	47	48	
50	51	52	53	54		56	57	58	59
60	61	62	63	64	65	66	67	68	69
	71	72	73		75	76	77	78	79
80		82	83	84	85	86		88	89
90	91	92	93	94	95	96	97		99

1. O QUE SERÁ QUE ELA QUER QUE SEUS ALUNOS OBSERVEM?

2. ALGUNS NÚMEROS DO QUADRO FORAM COBERTOS COM CARTÕES COLORIDOS. QUE NÚMEROS SÃO ESSES? ESCREVA AO LADO DE CADA CARTÃO O NÚMERO CORRESPONDENTE.

ORIENTAÇÕES PARA A REALIZAÇÃO DAS ATIVIDADES:

AGORA CONVIDO VOCÊ PARA REALIZAR AS ATIVIDADES NO LIVRO DE MATEMÁTICA.(PÁGINA 65).

NA PÁGINA 65,

1) VOCÊ DEVE REALIZAR E PREENCHER O QUADRO NUMÉRICO UTILIZANDO DIVERSAS ESTRATÉGIAS DENTRE ELAS A CONSULTA NA CARTELA DE NÚMEROS DISPONIBILIZADO ABAIXO:

1	2	3	4	5	6	7	8	9	10
11	12	13	14	15	16	17	18	19	20
21	22	23	24	25	26	27	28	29	30
31	32	33	34	35	36	37	38	39	40
41	42	43	44	45	46	47	48	49	50
51	52	53	54	55	56	57	58	59	60
61	62	63	64	65	66	67	68	69	70
71	72	73	74	75	76	77	78	79	80
81	82	83	84	85	86	87	88	89	90
91	92	93	94	95	96	97	98	99	100

2) ESCREVA OS NÚMEROS QUE ESTÃO COBERTOS COM CARTÕES COLORIDOS.

OBS: A REALIZAÇÃO DAS ATIVIDADES DEVEM SER ACOMPANHADAS POR UM ADULTO.

NÃO ESQUEÇA DE REALIZAR O CABEÇALHO NO CADERNO INFORMANDO O NÚMERO DA PÁGINA QUE VOCÊ REALIZOU.