

Escola: E.M PROF ANTONIO LACERDA BACELLAR		
Nome do aluno:	Data: 03/11	Semana: 33
Professora: Daniela Vilela	Turma: 1 ano A	
Componente Curricular: Língua Portuguesa	Entregar: Enviar foto via WhatsApp	
ATIVIDADE ADAPTADA		
EF01LP03) Observar escritas convencionais, comparando-as às suas produções escritas, percebendo semelhanças e diferenças.		

ATIVIDADE LÍNGUA PORTUGUESA
COM AUXÍLIO DE UM ADULTO OBSERVE A IMAGEM LEIA EM VOZALTA
PARA O ALUNO ESTIMULANDO O SOM DA VOGAL I, EM SEGUIDA
ESCREVA A VOGAL FINAL NAS IMAGENS ABAIXO.


**COMPLETE O NOME DAS FRUTAS COM A LETRA INICIAL, EM SEGUIDA
COPIE O NOME COMPLETO DA FRUTA.**



____ ELANCIA



____ IMÃO



____ OIABA



____ BACATE



____ ORANGO



____ ANANA



____ ERA



____ OCO



____ VA








____ AÇÃ

Escola: E.M PROF ANTONIO LACERDA BACELLAR		
Nome do aluno:	Data: 04/11	Semana: 33
Professora: Daniela Vilela	Turma: 1 ano A	
Componente Curricular: Língua Portuguesa ATIVIDADE ADAPTADA	Entregar: Enviar foto via WhatsApp	
Habilidade: EF01LP03) Observar escritas convencionais, comparando-as às suas produções escritas, percebendo semelhanças e diferenças. e a.		

ATIVIDADE DE LÍNGUA PORTUGUESA 📖

COM O AUXÍLIO DE UM ADULTO LEIA OS NOMES NO MATERIAL DE APOIO ENFATIZANDO A VOGAL INICIAL E ESCREVA-OS.

ERICA	EVA	EVANDRO	OZÓRIO	IVO
-------	-----	---------	--------	-----

	_____VA
	_____VO
	_____VANDRO
	_____RICA
	_____SÓRIO

Escola: E.M PROF ANTONIO LACERDA BACELLAR

Nome do aluno:	Data: 05/11	Semana: 33
Professora: Daniela Vilela	Turma: 1 ano A	
Componente Curricular: Matemática	Entregar: Enviar foto via WhatsApp	

ATIVIDADE ADAPTADA

Habilidade:

(EF01MA01) Utilizar números naturais como indicador de quantidade ou de ordem em diferentes situações cotidianas e reconhecer situações em que os números não indicam contagem, mas sim código de identificação

ATIVIDADE DE MATEMÁTICA

COM O AUXÍLIO DE UM ADULTO PEÇA PARA O ALUNO REALIZAR A CONTAGEM DE CADA DESENHO E RELACIONAR A QUANTIDADE PINTANDO O QUADRADO CORRETO.

VAMOS CONTAR?

	1		1
	2		2
	3		3
	4		8
	5		9
	6		10
	9		6
	10		7
	11		8

SEGUIE O MATERIAL DE APOIO PARA A REALIZAÇÃO DAS ATIVIDADES:

1	2	3	4	5	6	7	8	9	10
---	---	---	---	---	---	---	---	---	----

A E I O U