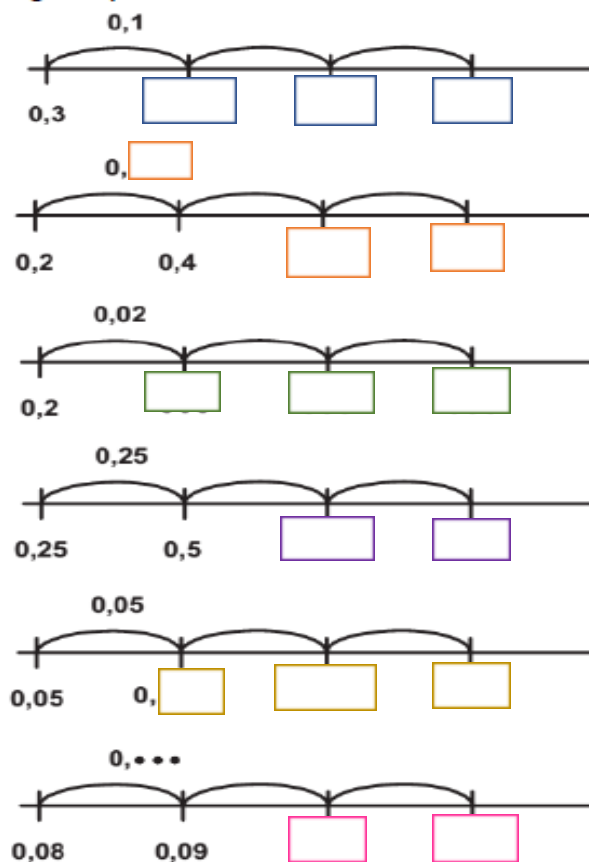


ESCOLA MUNICIPAL JOÃO MIDOLLA		
NOME DO ALUNO:	DATA: 27/09/21	SEMANA: 28 27/09 A 01/10
PROFESSOR: <i>Erica</i>	TURMA: 5º ANO A	
COMPONENTE CURRICULAR: MATEMÁTICA HABILIDADE: (EF05MA05) Comparar e ordenar números racionais positivos (representações fracionária e decimal), relacionando-os a pontos na reta numérica.		ENTREGAR: 01/10 enviar fotocópia para o whatsapp da professora.

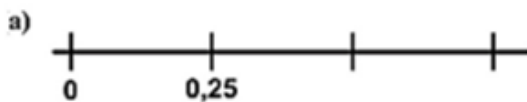
PROGRAMA SEGUE

Ordenando os números decimais

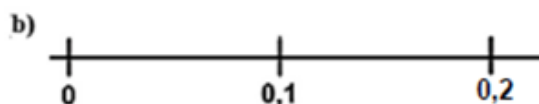
1- Siga os padrões em cada reta numérica:



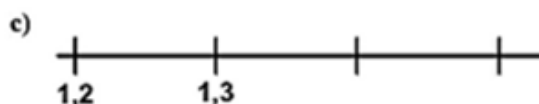
2- Marque, nas retas numéricas, os números decimais indicados:



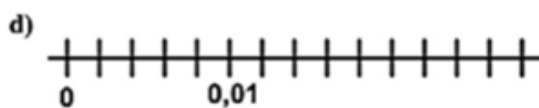
números: 0,50
0,75



números: 0,05
0,15



números: 1,4
1,5



números: 0,01
0,02

10. Usando os algarismos 0, 3 e 5, escreva:

a) um número compreendido entre 3 e 4: _____

b) um número compreendido entre 0,3 e 0,4: _____

c) um número compreendido entre 30 e 40: _____

QUALQUER DÚVIDA ESTOU A SUA DISPOSIÇÃO

