


**ESCOLA MUNICIPAL MARIA SIQUEIRA DE PAULA**

Nome do aluno:		<b>Semana: 28</b>
Professora: Rosemeire	<b>Terça – Feira 28/08</b>	Turmas: 5º Ano
Componente Curricular: 2 aulas de Língua Portuguesa	Entrega: Foto/vídeo/ Atividade impressa 	
Componente Curricular: 2 aulas de Matemática		
Componente Curricular: 1 aula de Geografia		

# PRONOMES



Existem três pessoas gramaticais ou pessoas do discurso:

- **1ª pessoa:** a pessoa que fala;
- **2ª pessoa:** a pessoa com quem se fala;
- **3ª pessoa:** a pessoa de quem se fala.

■ Exemplos:

- **1ª pessoa:** Eu passei no vestibular.
- **2ª pessoa:** Tu és um grande homem.
- **3ª pessoa:** Eles conseguiram erguer a estátua.

Pessoas do discurso	Pronomes Retos	Pronomes oblíquos
primeira pessoa do singular	eu	me, mim, comigo
segunda pessoa do singular	tu	te, ti, contigo
terceira pessoa do singular	ele/ela	se, si, o, a, lhe, consigo
primeira pessoa do plural	nós	nos, conosco
segunda pessoa do plural	vós	vos, convosco
terceira pessoa do plural	eles/elas	se, si, os, os, lhes, consigo



# ATIVIDADES

- Complete as frases usando os pronomes **comigo, contigo, e consigo.**

Reescreva as frases abaixo, substituindo as palavras em destaque pelos pronomes correspondentes:

- a) Bianca e Débora ganharam o concurso de beleza. **Bianca e Debora** são muito bonitas.

inos

- b) Hoje Gabriel ficou de castigo. **Gabriel** está muito teimoso.

- c) Beatriz foi passar as férias na praia. **Beatriz** adora ir pra lá.

## GEOGRAFIA

1) QUANTOS E QUAIS ESTADOS COMPÕEM A REGIÃO SUDESTE? E QUAIS SÃO ELES?

R.:

2) MARQUE A RESPOSTA CORRETA:

A) UM DOS CLIMAS PREDOMINANTES DA REGIÃO SUDESTE É TROPICAL:

( ) VERDADE ( ) FALSO

B) A REGIÃO SUDESTE É A MAIS POPULOSA DO BRASIL:

( ) SIM ( ) NÃO

C) O RELEVO DA REGIÃO SUDESTE APRESENTA VARIAÇÕES PLANÍCIE, PLANALTO, DEPRESSÕES

( ) VERDADEIRO ( ) FALSO

3) COMPLETE AS LACUNAS COM A PALAVRA CORRETA:

A) CAPITAL DO ESTADO DE SÃO PAULO É \_\_\_\_\_.

B) A CAPITAL DO ESTADO \_\_\_\_\_ É BELO HORIZONTE.

C) A CAPITAL DO ESTADO DO RIO JANEIRO É \_\_\_\_\_.

D) A CAPITAL DO ESTADO DO \_\_\_\_\_ É VITÓRIA.

## MATEMÁTICA

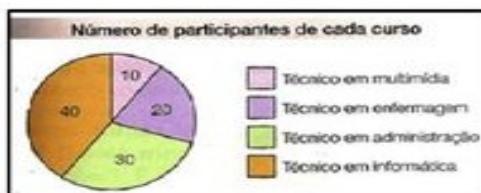
### TRABALHANDO COM GRÁFICOS DE PIZZA



O veterinário atendeu \_\_\_\_ cachorros e \_\_\_\_ gatos.

Quantas aves atendeu no total? \_\_\_\_\_

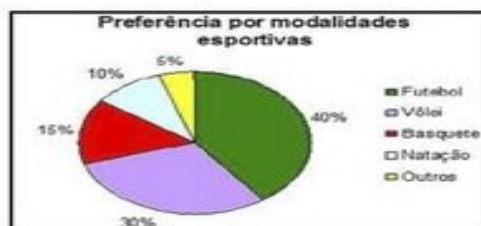
Quantos papagaios atendeu a menos que calopsitas? \_\_\_\_\_



Que curso teve mais alunos inscritos?  
\_\_\_\_\_

Que curso teve menos alunos inscritos?  
\_\_\_\_\_

O total de alunos inscritos foi \_\_\_\_\_



Que curso teve mais alunos inscritos?  
\_\_\_\_\_

Que curso teve menos alunos inscritos?  
\_\_\_\_\_

Qual o total de alunos inscritos?  
\_\_\_\_\_



Complete a tabela de acordo com o gráfico.

PESSOAS COM OLHOS AZUIS	
Colocação	Região
1º	
2º	
	Sul
5º	

Qual região tem maior incidência de pessoas com olhos azuis? \_\_\_\_\_

A região norte ficou em \_\_\_\_\_ lugar.

