


ESCOLA MUNICIPAL MARIA SIQUEIRA DE PAULA

Nome do aluno:		Semana: 29
Professora: Neili da Silva Moreira	Terça - Feira	Turmas: 2º Ano
Componente Curricular: 3 aulas de Língua Portuguesa	Entrega: Foto/vídeo/ Atividade impressa 	
Componente Curricular: 2 aula de Matemática		



TODAS AS **CRIANÇAS**
DEVEM SER PROTEGIDAS
PELA FAMÍLIA, PELA
SOCIEDADE E PELO
ESTADO, PARA QUE
POSSAM SE DESENVOLVER
FÍSICAMENTE E
INTELECTUALMENTE.

1. ENCONTRE E PINTE NO TEXTO A PALAVRA FAMÍLIA.

2. OBSERVE A PALAVRA EM DESTAQUE NO TEXTO:

A - EM CADA NUVEM ESCREVA UMA PALAVRA INICIADA PELA MESMA LETRA.





**TODAS AS CRIANÇAS TÊM DIREITO
AO AMOR E À COMPREENSÃO DOS
PAIS E DA SOCIEDADE.**


1. RECORTE E COLE DE LIVROS, REVISTAS E
JORNAIS IMAGENS DE CRIANÇAS QUE NÃO
TEM SEUS DIREITOS RESPEITADOS:

2. EM SUA OPINIÃO O QUE PODE SER FEITO POR ESSAS CRIANÇAS?


PASSATEMPO

JOGO 7 ERROS


**PARECE QUE A MÔNICA E O CEBOLINHA ESTÃO SOSSEGADOS
SABOREANDO UM GOSTOSO LANCHINHO !**



**ANTES QUE ESSA HARMONIA ACABE, VAMOS ENCONTRAR AS
7 DIFERENÇAS ENTRE AS DUAS ILUSTRAÇÕES?**



BRINCANDO NA PRACINHA!



VAMOS OBSERVAR BEM A IMAGEM E RESPONDER:

1. QUANTAS CRIANÇAS ESTÃO JOGANDO BOLITA?

2. QUANTAS CRIANÇAS ESTÃO BRINCANDO NA GANGORRA?

3. QUANTAS CRIANÇAS ESTÃO BRINCANDO NA PRACINHA?

4. EXISTEM MAIS MENINOS OU MENINAS BRINCANDO?
