


ESCOLA MUNICIPAL ENGENHEIRO CARLOS ROHM I

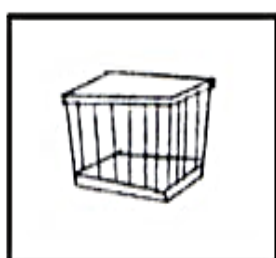
| | | |
|--|----------------------------|---------------------------------------|
| Nome do aluno: | Data: 27/09/2021 | Semana: 28 |
| Professor: Eliane, Marina, Andréia F e Cilene | Turma: 3.º Anos: A,B,C e D | |
| Componentes Curriculares: Projeto Segue Língua Portuguesa e Matemática | | Entregar: Via E-mail até dia 01/10/21 |

PROJETO SEGUE LÍNGUA PORTUGUESA

1) ESCREVA AS SÍLABAS EM ORDEM, CONFORME A FIGURA E ASSINALE A SÍLABA INTRUSA :



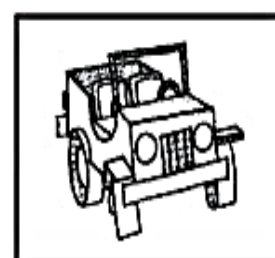
JUR BA A NE




LA VE JA U FO




LI JA VA ZE



JO PE JI A



NE LA JA VI



TI JA BU CE



JO BEI CA SI



JA CO RU LE

2) ESCOLHA DUAS PALAVRAS DO QUADRO ACIMA E FORME UMA FRASE:

MATEMÁTICA

1) PERCURSO MALUCO: COMPLETE O PERCURSO EM ORDEM DECRESCENTE E AJUDE O MENINO A ENCONTRAR SUA BOLA:



50 49 46 45
 43






33 34 36 38 41

31 28 26 25 23 22

11 13 14 16 17 19

9 7 4 3

2) VAMOS CONTAR E AJUDAR AS CRIANÇAS RESOLVENDO AS ADIÇÕES, DEPOIS LEVE-AS ATÉ O RESULTADO CERTO:

| | |
|---|--|
|  $\begin{array}{r} 9 \\ + 6 \\ \hline \end{array}$ | |
|  $\begin{array}{r} 8 \\ + 9 \\ \hline \end{array}$ | |
|  $\begin{array}{r} 2 \\ + 8 \\ \hline \end{array}$ | |
|  $\begin{array}{r} 5 \\ + 9 \\ \hline \end{array}$ | |
|  $\begin{array}{r} 7 \\ + 5 \\ \hline \end{array}$ | |

| |
|----|
| 10 |
| 12 |
| 14 |
| 15 |
| 17 |