

**ESCOLA MUNICIPAL ENGENHEIRO CARLOS ROHM – UNIDADE I**

NOME DO ALUNO:

**SEMANA 29**  
04 A 08/10/2021.

PROFESSORAS: ANA, DAYANE, DENISE,  
CINTIA.

DATA: 05/10/2021  
**TERÇA - FEIRA**

TURMA: **2º ANOS**  
A, B, C E D.


COMPONENTE CURRICULAR:  
PORTUGUÊS/MATEMÁTICA

ENTREGA: **ENVIAR NO E-MAIL DA**  
**PROFESSORA ATÉ O DIA 06/10/2021.**

**ATIVIDADE DE PORTUGUÊS**

**SEMANA DA CRIANÇA**

1- ESCREVA O NOME DOS BRINQUEDOS:



2- PINTE UM QUADRADO PARA CADA SÍLABA DAS PALAVRAS ABAIXO:

CARRINHO

PIÃO

BONECA


AVIÃO

CASINHA


BICICLETA

## ATIVIDADE DE MATEMÁTICA

1- VEJAM QUANTOS BRINQUEDOS SERÃO DOADOS PARA AS CRIANÇAS!



2- QUANTOS SÃO



RESPONDA:

QUAL É O BRINQUEDO QUE FOI MAIS DOADO? \_\_\_\_\_

QUAL É O BRINQUEDO QUE FOI MENOS DOADO? \_\_\_\_\_

**NÃO SE ESQUEÇA DE ENVIAR A DEVOLUTIVA PARA O E-MAIL DA PROFESSORA**