
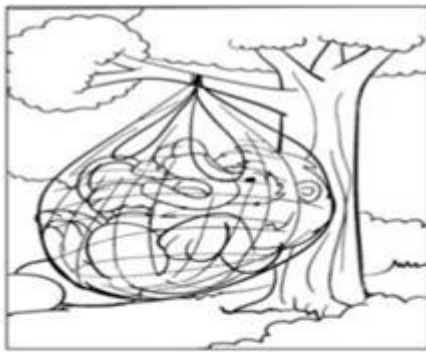


**ESCOLA MUNICIPAL ENGENHEIRO CARLOS ROHM – UNIDADE I**

Nome do aluno:		<b>Semana 29</b>
Professor: TALITA, MARISTELA, ALESSANDRA, VALÉRIA E RAQUEL	Data: 28/09/2021 TERÇA-FEIRA	Turma: 1º
Componente Curricular: PORTUGUÊS E MATEMÁTICA	Entrega: Entregar a devolutiva via e-mail para a professora até o dia 29/09/2021 às 11 horas.	

**ATIVIDADE DE TERÇA FEIRA**

**1- RECORTE AS IMAGENS E COLE NA SEQUÊNCIA.**



O RATINHO E O LEÃO	




OBS: O ALUNO QUE NÃO PUDER IMPRIMIR AS IMAGENS DO EXERCÍCIO 2, PODERÁ DESENHAR A SEQUÊNCIA DA HISTÓRIA.

1- VOCES JÁ CONHECERAM A FÁBULA DO LEÃO E O RATINHO.

**AGORA VAMOS FAZER A REESCRITA DA FÁBULA O LEÃO E O RATINHO JUNTAMENTE COM A PROFESSORA.**

REESCRITA COLETIVA.



OBS: PARA OS ALUNOS QUE ESTÃO NO ENSINO REMOTO: A CRIANÇA VAI DITAR E O RESPONSÁVEL IRÁ REGISTRAR(ESCREVER)A HISTÓRIA NO CADERNO.

## MATEMÁTICA

### 1- OBSERVE O MODELO E SOME COM O LEÃO E O RATINHO



### SOMANDO

0 1 2 3 4 5 6 7 8 9

$$0 + 9 = \square$$


$$1 + 8 = \square$$

●				

$$2 + 7 = \square$$

●	●			

$$3 + 6 = \square$$

●	●	●		

$$4 + 5 = \square$$

●	●	●	●	

ASSISTAM AO VÍDEO EXPLICATIVO DA PROFESSORA PARA MELHOR COMPREENSÃO DAS ATIVIDADES.  
LEMBRANDO QUE NÃO É NECESSÁRIO A IMPRESSÃO, PODENDO UTILIZAR O CADERNO PARA REALIZAR AS ATIVIDADES.