

Escola: E.M PROF ANTONIO LACERDA BACELLAR		
Nome do aluno:	Data: 27/09	Semana: 28
Professora: Daniela Vilela	Turma: 1 ano A	
Componente Curricular: Língua Portuguesa	Entregar: Enviar foto via WhatsApp	
ATIVIDADE ADAPTADA		
EF01LP03) Observar escritas convencionais, comparando-as às suas produções escritas, percebendo semelhanças e diferenças.		

ATIVIDADE LÍNGUA PORTUGUESA

COMPLETE AS PALAVRAS COM A LETRA A.



L T



M I N H O C



X Í C R



M C C O

Escola: E.M PROF ANTONIO LACERDA BACELLAR		
Nome do aluno:	Data: 28/09	Semana: 28
Professora: Daniela Vilela	Turma: 1 ano A	
Componente Curricular: Língua Portuguesa	Entregar: Enviar foto via WhatsApp	
ATIVIDADE ADAPTADA		
Habilidade: EF01LP03) Observar escritas convencionais, comparando-as às suas produções escritas, percebendo semelhanças e diferenças. e a.		

ATIVIDADE DE LÍNGUA PORTUGUESA 🗨️

NOME: _____

DATA: _____

www.mestredosaber.com.br
www.alfabetiza.net

ESCREVA A VOGAL INICIAL DO NOME DE CADA FIGURA.

 <input type="text"/>	 <input type="text"/>	 <input type="text"/>
---	---	---





Escola: E.M PROF ANTONIO LACERDA BACELLAR		
Nome do aluno:	Data: 29/09	Semana: 28
Professora: Daniela Vilela	Turma: 1 ano A	
Componente Curricular: Língua Portuguesa	Entregar: Enviar foto via WhatsApp	
ATIVIDADE ADAPTADA		
Habilidade: EF01LP03) Observar escritas convencionais, comparando-as às suas produções escritas, percebendo semelhanças e diferenças.		

ATIVIDADE DE LÍNGUA PORTUGUESA

1) RELACIONE A IMAGEM A VOGAL 🐝

Escola: _____
Data: _____ Turma: _____
Aluno: _____

LIGUE AS VOGAIS AS FIGURAS CERTAS.

I

O


E

A

Escola: E.M PROF ANTONIO LACERDA BACELLAR		
Nome do aluno:	Data: 30/09	Semana: 28
Professora: Daniela Vilela	Turma: 1 ano A	
Componente Curricular: Matemática	Entregar: Enviar foto via WhatsApp	
ATIVIDADE ADAPTADA		
Habilidade: EF01MA01) Utilizar números naturais como indicador de quantidade ou de ordem em diferentes situações cotidianas e reconhecer situações em que os números não indicam contagem, mas sim código de identificação		

ATIVIDADE DE MATEMÁTICA

COMPLETE A SEQUÊNCIA NUMÉRICA:



1				5				10
	12		14				18	

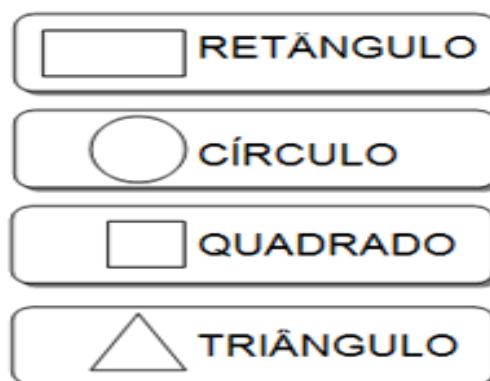

APÓS A CONSTRUÇÃO DA SEQUÊNCIA NUMÉRICA CIRCULE OS NÚMEROS ABAIXO :

5- 8- 10- 12 -20

Escola: E.M PROF ANTONIO LACERDA BACELLAR		
Nome do aluno:	Data: 01/10	Semana: 28
Professora: Daniela Vilela	Turma: 1 ano A	
Componente Curricular: Matemática	Entregar: Enviar foto via WhatsApp	
ATIVIDADE ADAPTADA		
Habilidade: EF01MA13) Relacionar figuras geométricas espaciais (cones, cilindros, esferas e blocos retangulares) a objetos familiares do mundo físico.		

ATIVIDADE DE MATEMÁTICA

- **PINTE O DESENHO ABAIXO, SEGUINDO AS ORIENTAÇÕES:**



- **PINTE A QUANTIDADE DE FORMAS GEOMÉTRICAS EXISTENTES NA IMAGEM ACIMA:**

RETÂNGULO S

QUADRADOS

TRIÂNGULO

CÍRCULO

- **CONTINUE A SEQUÊNCIA:**

