

ESCOLA MUNICIPAL MARIA SIQUEIRA DE PAULA

Nome do aluno:		Semana: 23
Professora: Maria Elizabete Galindo dos Santos Barbosa	Atividade Adaptada Segunda	Turmas: 3º Ano 23-08-21
Componente Curricular: Língua Portuguesa	Entrega: Foto/vídeo/ Atividade impressa	
Componente Curricular: Matemática		

Folclore Paranaense:

HOJE É DOMINGO,
PEDE CACHIMBO.
O CACHIMBO É DE BARRO,
BATE NO JARRO.
O JARRO É DE OURO,
BATE NO TOURO.
O TOURO É VALENTE,
CHIFRA A GENTE.
A GENTE É FRACO,
CAI NO BURACO.
O BURACO É FUNDO,
ACABOU-SE O MUNDO.



ESTUDANDO O TEXTO

1-QUANTOS VERSOS TÊM A PARLENDA ACIMA?

() 10

() 11

() 12

2-QUAL DAS PALAVRAS ABAIXO QUE RIMA COM OURO?

() CAVALO

() TOURO

() GIRAFÁ



3-COMPLETE A FRASE DE ACORDO COM A PARLENDA:

O CACHIMBO É DE _____

- () FERRO
- () PAPEL
- () BARRO

4-MARQUE O NOME DA FIGURA:

- () OURO
- () TOCA
- () TOURO



5-A PARLENDA DIZ QUE A GENTE É:

- () FRACA
- () PREGUIÇOSA
- () FORTE


ESCREVA DO SEU JEITO AS PALAVRAS DA PARLENDA.
















MATEMÁTICA

CONTE E REGISTRE AS QUANTIDADES DE CACHIMBO.




ESCOLA MUNICIPAL MARIA SIQUEIRA DE PAULA

Nome do aluno:		Semana: 23
Professora: Maria Elizabete Galindo dos Santos Barbosa	Atividade Adaptada Terça	Turmas: 3º Ano 24-08-21
Componente Curricular: Língua Portuguesa	Entrega: Foto/vídeo/ Atividade impressa	
Componente Curricular: Matemática		

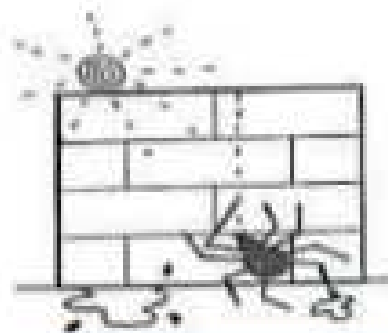
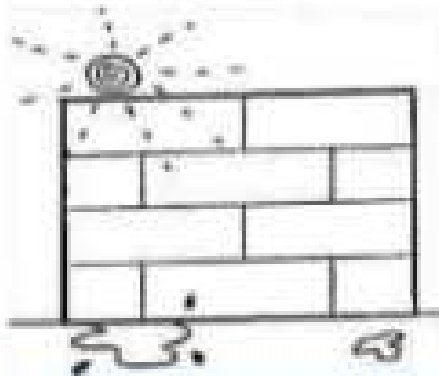

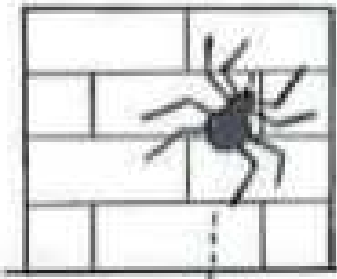
DONA ARANHA

A MAMÃE ARANHA
SUBIU PELA PAREDE
VEIO A CHUVA FORTE
E A DERRUBOU.

A CHUVA FOI PASSANDO
E O SOL JÁ VEM SURGINDO,
E A MAMÃE ARANHA
DE NOVO VAI SUBINDO.



ORDENE OS VERSOS DA PARLENDA: "DONA ARANHA" E COLE DE ACORDO COM A ILUSTRAÇÃO.



JÁ PASSOU A CHUVA E O
SOL JÁ VEM SURGINDO

VEIO A CHUVA FORTE E A
DERRUBOU.

A DONA ARANHA SUBIU
PELA PAREDE

E A DONA ARANHA
CONTINUA A SUBIR

ORDENE A FRASE E COPIE CORRETAMENTE.

SUBIU

PELA

DONA

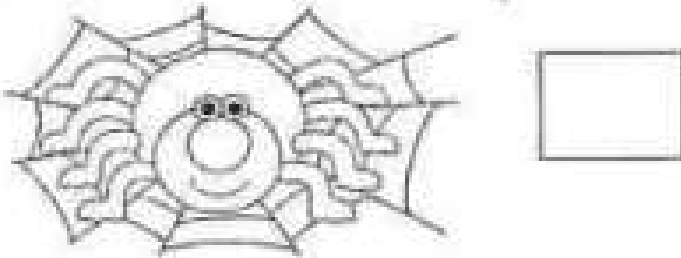
A

PAREDE

ARANHA

MATEMÁTICA

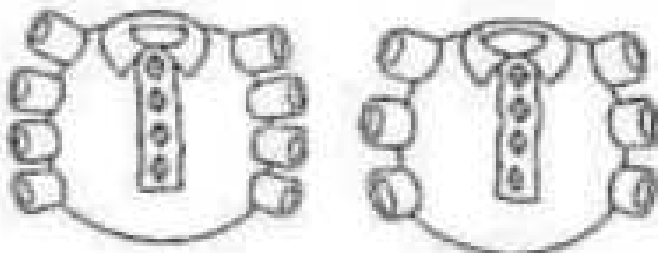
CONTE QUANTAS PATAS A DONA ARANHA TEM E ESCREVA NO QUADRADINHO:



PINTE QUANTOS SAPATOS SÃO NECESSÁRIOS PARA CALÇAR A DONA ARANHA.



QUAL É A BLUSINHA QUE SERVE NA DONA ARANHA? PINTE-A.



ESCOLA MUNICIPAL MARIA SIQUEIRA DE PAULA

Nome do aluno:		Semana: 23
Professora: Maria Elizabete Galindo dos Santos Barbosa	Atividade Adaptada Quarta	Turmas: 3º Ano 25-08-21
Componente Curricular: Língua Portuguesa	Entrega: Foto/vídeo/ Atividade impressa	
Componente Curricular: Matemática		

FOLCLORE – CANTIGA POPULAR

A BARATA


A BARATA DIZ QUE TEM SETE SAIAS DE FILÓ
 É MENTIRA DA BARATA ELA TEM É UMA SÔ
 HÁ, HÁ, HÁ, HÔ, HÔ, HÔ ELA TEM É UMA SÔ

A BARATA DIZ QUE TEM UM SAPATO DE VELUDO
 É MENTIRA DA BARATA O PÉ DELA É PELUDO
 HÁ, HÁ, HÁ, HÔ, HÔ, HÔ O PÉ DELA É PELUDO

A BARATA DIZ QUE TEM UMA GAMA DE MARFIM
 É MENTIRA DA BARATA ELA TEM É DE CAPIM
 HÁ, HÁ, HÁ, HÔ, HÔ, HÔ ELA TEM É DE CAPIM

A BARATA DIZ QUE TEM UM ANEL DE FORMATURA
 É MENTIRA DA BARATA ELA TEM É CASCA DURA
 HÁ, HÁ, HÁ, HÔ, HÔ, HÔ ELA TEM É CASCA DURA

A BARATA DIZ QUE TEM O CABELO CACHEADO
 É MENTIRA DA BARATA ELA TEM COCO RASPADO
 HÁ, HÁ, HÁ, HÔ, HÔ, HÔ ELA TEM COCO RASPADO



- 1) CIRCULE NO TEXTO TODAS AS PALAVRAS BARATAS
- 2) COMPLETE AS PALAVRAS DE ACORDO COM O QUE A BARATA TEM

CASCA RA PÉ PE DO
 COCO RAS

- 3) COMPLETE AS PALAVRAS COM AS LETRAS FALTANTES.



___ A P ___ T ___



___ A ___ A ___ A



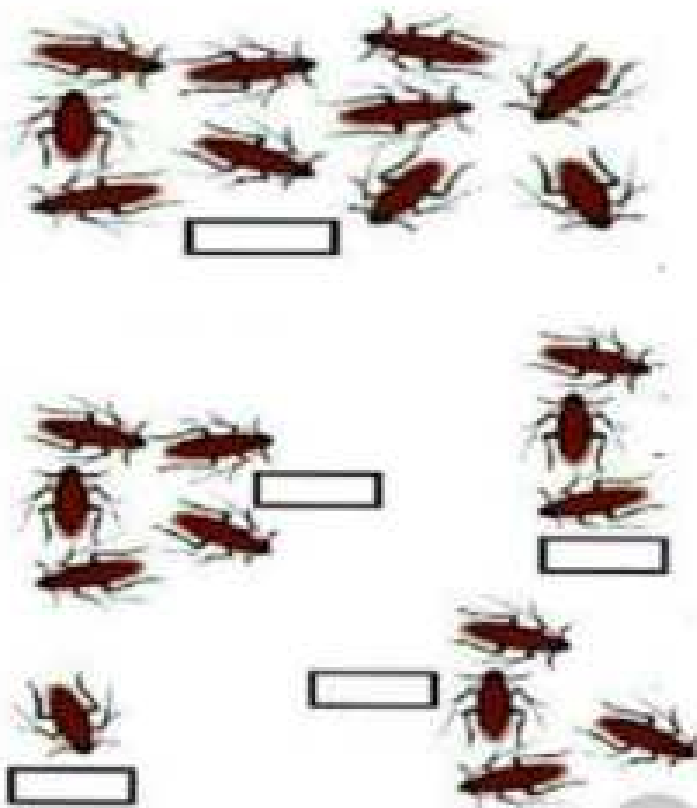
A ___ L



S _____

MATEMÁTICA

CONTE A QUANTIDADE DE BARATAS EM CADA GRUPO.



DESENHE ABAIXO QUANTAS SAIAS A BARATA DIZ QUE TEM.

ESCOLA MUNICIPAL MARIA SIQUEIRA DE PAULA

Nome do aluno:		Semana: 23
Professora: Maria Elizabete Galindo dos Santos Barbosa	Atividade Adaptada Quinta	Turmas: 3º Ano 26-08-21
Componente Curricular: Língua Portuguesa	Entrega: Foto/vídeo/ Atividade Impressa	
Componente Curricular: Matemática		



VAMOS CANTAR

O SAPO

O SAPO NÃO LAVA O PÉ
 NÃO LAVA PORQUE NÃO QUER
 ELE MORA LÁ NA LAGOA
 NÃO LAVA O PÉ PORQUE NÃO QUER
 MAS QUE CHULÉ!!!



O [] NÃO LAVA O PÉ
 NÃO LAVA PORQUE [] QUER
 ELE MORA NA []
 NÃO [] O PÉ PORQUE NÃO QUER
 MAS QUE CHULÉ!



SAPO

CRUZADINHA




 → L [] [] [] []
 ↓
 A
 ↓
 V
 ↓
 → [] A [] []
 ↓
 •
 ↓
 O
 ↓
 •
 ↓
 P
 ↓
 → [] [] [] É []

LIGUE CORRETAMENTE

PÉ 

LAGOA 

SAPO 



SAPO

SA SE SI SO SU



PÉ

PA PE PI PO PU



LAGOA

LA LE LI LO LU

TREINE AS FAMILIAS SILÁBICAS:

S

--	--	--	--	--

P

--	--	--	--	--

L

--	--	--	--	--























RECORTE AS FIGURAS E COLE DE ACORDO COM A PALAVRA.

SAPATO	SAPO	SAIA	SEDE	SALADA
SOFA	SUBMARINO	SACOLA	SOPA	SEREIA




MATEMÁTICA

RESOLVA AS ADIÇÕES:


							
							
		+			=	<input data-bbox="754 573 842 642" type="text" value="?"/>	
			+			=	<input data-bbox="754 678 842 748" type="text" value="?"/>
		+			=	<input data-bbox="754 781 842 851" type="text" value="?"/>	
		+			=	<input data-bbox="754 884 842 954" type="text" value="?"/>	


<input data-bbox="193 992 296 1070" type="text" value="3"/>	<input data-bbox="368 992 472 1070" type="text" value="5"/>	<input data-bbox="552 992 655 1070" type="text" value="2"/>	<input data-bbox="727 992 831 1070" type="text" value="4"/>
---	---	---	---

CONTE A QUANTIDADE DE SAPOS E FAÇA UM X NO NÚMERO CORRESPONDENTE.

	9
	7
	8
	6

	4
	5
	7
	6

	6
	8
	7
	9

	8
	7
	6
	9


ESCOLA MUNICIPAL MARIA SIQUEIRA DE PAULA

Nome do aluno:		Semana: 23
Professor(a): Maria Elizabeth Galindo dos Santos Barbosa	Atividade Adaptada Sexta	Turmas: 3º Ano 27-08-21
Componente Curricular: Língua Portuguesa	Entrega: Foto/vídeo/ Atividade impressa	
Componente Curricular: Matemática		



VAMOS CANTAR?

SAPO CURURU



SAPO CURURU
 NA BEIRA DO RIO
 QUANDO O SAPO CHORA,
 Ó MANINHA,
 É PORQUE TEM FRIO.

A MULHER DO SAPO,
 DEVE ESTAR LÁ DENTRO
 FAZENDO RENDINHA,
 Ó MANINHA,
 PARA O CASAMENTO.

SAPO CURURU

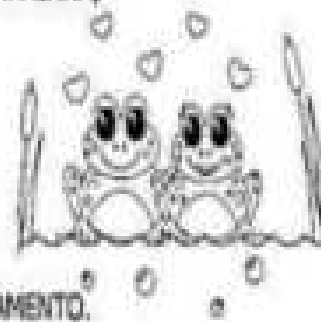
SAPO CURURU

NA BEIRA DO RIO

QUANDO O SAPO PULA, Ó MANINHA,
 É PORQUE TEM FRIO.

A MULHER DO SAPO
 DEVE ESTAR LÁ DENTRO

FAZENDO RENDINHA,
 Ó MANINHA, PRO SEU CASAMENTO.



• QUAL É O TÍTULO DO TEXTO?

• ONDE VIVE O SAPO?





• O SAPO PULA PORQUÊ:

ESTÁ COM CALOR.

ESTÁ COM FRIO.

MATEMÁTICA

❖ SUBTRAÇÃO ILUSTRADA:

ARME AS CONTAS:

--

AULAS ON LINE PELO APLICATIVO MEET OU VIA WHATSAPP