


ESCOLA MUNICIPAL MARIA SIQUEIRA DE PAULA

Nome do aluno:		Semana: 22
Professora: Maria Elizabete Galindo dos Santos Barbosa	Atividade Adaptada Segunda	Turmas: 3º Ano 16-08-21
Componente Curricular: Língua Portuguesa	Entrega: Foto/vídeo/ Atividade impressa	
Componente Curricular: Matemática		

ASSISTA O CONTO CINDERELA <https://youtu.be/VWoob-DPz8A>

LEIA O CONTO PARA A CRIANÇA:

CINDERELA

- UM SENHOR VIÚVO TINHA UMA FILHA A QUEM AMAVA MUITO. ELE DECIDIU CASAR-SE NOVAMENTE COM UMA VIÚVA QUE TINHA DUAS FILHAS. O POBRE HOMEM MORREU, DEIXANDO SUA FILHA DESOLADA. NO ENTANTO, A MADRASTA E SUAS FILHAS FICARAM FELIZES COM A HERANÇA. AS TRÊS MULHERES INVEJAVAM A BELEZA E A BONDADE DA MOÇA. ENTÃO A CONVERTERAM EM SUA CRIADA E A CHAMAVAM CINDERELA.

- CINDERELA LAVAVA, LIMPAVA, PASSAVA E COZINHAVA. PORÉM, MAIS QUE TUDO CHORAVA, PORQUE NINGUÉM MAIS GOSTAVA DELA. UM DIA, O ARAUTO DO REI CONVIDOU TODAS AS JOVENS DO REINO PARA UM BAILE NO PALÁCIO, POIS O PRÍNCIPE HERDEIRO QUERIA ESCOLHER UMA ESPOSA. - AS FILHAS DA MADRASTA ACREDITAVAM QUE UMA DELAS SERIA A ESCOLHIDA E PASSARAM A TARDE PROVANDO VESTIDOS. A POBRE CINDERELA TAMBÉM QUERIA IR AO BAILE, MAS AS SUAS IRMÃS A PROIBIRAM. FORAM AO BAILE ZOMBANDO DE CINDERELA, QUE FICOU EM PRANTOS.

- ENTÃO APARECEU A SUA FADA MADRINHA. - NÃO CHORES - DISSE-LHE - IRÁS AO BAILE. E COM SUA VARINHA DE CONDÃO TRANSFORMOU SUAS POBRES ROUPAS NUM TRAJE MARAVILHOSO. A FADA AINDA TRANSFORMOU UMA ABÓBORA NUMA CARRUAGEM E O GATO NO SEU COCHEIRO. - VAI MINHA MENINA - DISSE A FADA. MAS NÃO ESQUEÇAS QUE O FEITIÇO SE ROMPERÁ À MEIA NOITE. E CINDERELA CHOROU, MAS DESTA VEZ FOI DE ALEGRIA.

- CINDERELA ENTROU NO PALÁCIO E TODOS FICARAM ENCANTADOS COM SUA BELEZA. O PRÍNCIPE QUIS DANÇAR SOMENTE COM ELA. AO DAR MEIA NOITE, ANTES QUE TERMINASSE O ENCANTO, CINDERELA FOI EMBORA, DESCEU AS ESCADAS CORRENDO ...E PERDEU SEU SAPATINHO DE CRISTAL.

- O PRÍNCIPE, QUE TINHA SE APAIXONADO POR CINDERELA, PARA ACHÁ-LA, MANDOU QUE PROVASSEM O SAPATINHO EM TODAS AS JOVENS DO REINO. COMO O SAPATO ERA PEQUENO, POR MAIS QUE AS IRMÃS TENTASSEM, NÃO SERVIA. QUANDO VIRAM CINDERELA CALÇÁ-LO FICARAM SURPRESAS. NO DIA SEGUINTE, CINDERELA CASOU-SE COM O PRÍNCIPE E HOVE FESTA EM TODO O REINO. AGORA CINDERELA ERA AMADA E OS DOIS FORAM MUITO FELIZES.

VAMOS FAZER UM X, DE ACORDO COM A HISTÓRIA.

1 - APÓS A MORTE DE SEU PAI CINDERELA PASSOU A VIVER NO SÓTÃO JUNTO COM OS:




2 - CINDERELA QUERIA IR NO BAILE E COMEÇOU A FAZER SEU PRÓPRIO:




3- QUEM APARECEU PARA AJUDAR CINDERELA IR PARA O BAILE?



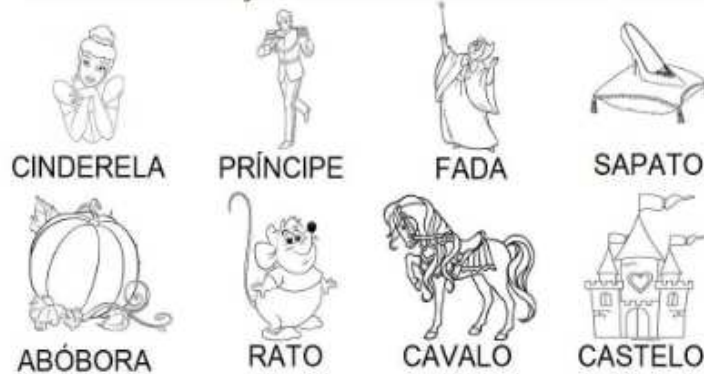
4- A FADA USOU SUA VARINHA MÁGICA E TRANSFORMOU UMA ABÓBORA EM:



5-O QUE CINDERELA PERDEU NA ESCADARIA AO SAIR CORRENDO DO BAILE?




PROCURE NO CAÇA PALAVRAS OS NOMES DAS FIGURAS.



J	K	M	C	A	S	T	E	L	O	H	M
R	A	T	O	H	Q	V	F	A	D	A	U
V	U	K	C	I	N	D	E	R	E	L	A
M	Q	A	B	Ó	B	O	R	A	J	Z	V
H	U	T	K	V	Q	H	Z	M	K	Z	Q
U	S	A	P	A	T	O	J	Y	U	H	W
Q	M	Y	H	Z	J	U	V	K	W	Q	F
J	V	P	R	Í	N	C	I	P	E	V	M
Z	H	U	C	A	V	A	L	O	Q	J	Y

MATEMÁTICA

VAMOS AJUDAR A CINDERELA CONTAR SEUS VESTIDOS.



QUANTOS VESTIDOS CINDERELA PRECISA PARA COMPLETAR DEZ VESTIDOS? DESENHO NO QUADRO ABAIXO A QUANTIDADE DE VESTIDOS.



E PARA COMPLETAR UMA DÚZIA? DESENHE A QUANTIDADE DE VESTIDOS QUE CINDERELA PRECISA NO QUADRO ABAIXO.



ESCOLA MUNICIPAL MARIA SIQUEIRA DE PAULA

Nome do aluno:		Semana: 22
Professora: Maria Elizabete Galindo dos Santos Barbosa	Atividade Adaptada Terça	Turmas: 3º Ano 17-08-21
Componente Curricular: Língua Portuguesa	Entrega: Foto/vídeo/ Atividade impressa	
Componente Curricular: Matemática		

LETRAS MÓVEIS

ESCREVA O NOME DAS FIGURAS

	<input type="text"/>
	<input type="text"/>
	<input type="text"/>
	<input type="text"/>

MATEMÁTICA

1. CONTE E REGISTRE:



Nº DE RATOS _____

Nº DE LAÇOS _____

Nº DE PÁSSAROS _____

ESCOLA MUNICIPAL MARIA SIQUEIRA DE PAULA		
Nome do aluno:		Semana: 22
Professora: Maria Elizabete Galindo dos Santos Barbosa	Atividade Adaptada Quarta	Turmas: 3º Ano 18-08-21
Componente Curricular: Língua Portuguesa	Entrega: Foto/vídeo/ Atividade impressa	
Componente Curricular: Matemática		

DITADO RECORTADO







CINDERELA

PRÍNCIPE


FADA

RATO

SAPATO

CASTELO

CRUZADINHA



MATEMÁTICA

CINDERELA FEZ BOLINHOS CAPRICHADOS PARA OS SEUS AMIGOS RATINHOS!



QUANTOS BOLINHOS DE CHOCOLATE? _____



QUANTOS BOLINHOS DE MORANGO? _____

SE JUNTAR TODOS, QUAL O TOTAL DE BOLINHOS FEITOS POR CINDERELA?

ESCOLA MUNICIPAL MARIA SIQUEIRA DE PAULA		
Nome do aluno:		Semana: 22
Professora: Maria Elizabete Galindo dos Santos Barbosa	Atividade Adaptada Quinta	Turmas: 3º Ano 19-08-21
Componente Curricular: Língua Portuguesa	Entrega: Foto/vídeo/ Atividade impressa	
Componente Curricular: Matemática		

CONVITE

LEIA O CONVITE E RESPONDA




CINDERELA,
CONVIDO VOCÊ PARA EXPERIMENTAR O SAPATINHO DE CRISTAL QUE ENCONTREI NA ESCADARIA DO CASTELO ONTEM, DEPOIS DO BAILE. POR FAVOR NÃO DEIXE DE COMPARECER.
PRÍNCIPE ENCANTADO

1- COM AS INFORMAÇÕES DO CONVITE, A CINDERELA CONSEGUIRÁ ENCONTRAR O PRÍNCIPE ENCANTADO?

2- ASSINALE COM X AS INFORMAÇÕES QUE ESTÃO FALTANDO NO CONVITE.

- PARA QUEM FOI ESCRITO O CONVITE
- DATA DO ENCONTRO
- QUEM ESCREVEU O CONVITE
- LOCAL DO ENCONTRO
- HORÁRIO DO ENCONTRO



MATEMÁTICA

1- FAÇA UM X NO QUADRADINHO QUE REPRESENTA A QUANTIDADE DE SAPATINHOS (ASSOCIAR A DENOMINAÇÃO DO NÚMERO À SUA REPRESENTAÇÃO SIMBÓLICA)



15 20 25

2- PRESTE ATENÇÃO AO DITADO DE NÚMEROS DA PROFESSORA: (ESCRITAS NUMÉRICAS)

3- CINDERELA E O PRÍNCIPE VÃO SE CASAR! OBSERVE O CALENDÁRIO E RESPONDA: (INTERPRETAR E LOCALIZAR INFORMAÇÕES EM CALENDÁRIOS)



1- QUAL A DATA DO CASAMENTO? _____

2- O DIA DO CASAMENTO CAIRÁ EM QUE DIA DA SEMANA? _____

3- QUANTOS DIAS TEM O MÊS DE MARÇO?

4- SITUAÇÕES-PROBLEMA:

A RAINHA MALVADA COLHEU 19 MAÇÃS PARA ENVENENAR E ENTREGAR PARA A BRANCA DE NEVE, MAS 8 APODRECERAM. QUANTAS RESTARAM? (RESOLVER SITUAÇÕES- PROBLEMA COM OS SIGNIFICADOS DE SEPARAR E RETIRAR QUANTIDADES)

5- OS SETE ANÕES ENCONTRARAM 17 DIAMANTES NO PERÍODO DA MANHÃ NA MINA E 6 NO PERÍODO DA TARDE. QUANTOS DIAMANTES ENCONTRARAM AO TODO? (RESOLVER SITUAÇÕES- PROBLEMA COM OS SIGNIFICADOS DE JUNTAR E ACRESCENTAR QUANTIDADES)

ESCOLA MUNICIPAL MARIA SIQUEIRA DE PAULA		
Nome do aluno:		Semana: 22
Professora: Maria Elizabete Galindo dos Santos Barbosa	Atividade Adaptada Sexta	Turmas: 3º Ano 20-08-21
Componente Curricular: Língua Portuguesa	Entrega: Foto/video/ Atividade impressa	
Componente Curricular: Matemática		

RECORTE E COLE AS IMAGENS NO QUADRO QUE REPRESENTA SEU NOME:

CINDERELA	PRÍNCIPE	FADA

SAPATO	ABÓBORA	CASTELO



DITADO ILUSTRADO







MATEMÁTICA



O MENINO REI PAULO E O PRÍNCIPE HENRIQUE FAZEM COLEÇÃO DE CARRINHOS.
OBSERVE:



QUANTOS CARRINHOS HENRIQUE POSSUE A MENOS QUE PAULO?

- A) 6
B) 9
C) 2
D) 11

OBSERVE A SEQUÊNCIA NUMÉRICA:

20 – 21 – 22 – 23 – 24 – 25 – _____

QUAL SERÁ O PRÓXIMO NUMERAL A SER ESCRITO?

- A) 30
B) 27
C) 26
D) 28

AULAS ON LINE PELO APLICATIVO MEET OU VIA WHATSAPP