

<b>ESCOLA MUNICIPAL ENGENHEIRO CARLOS ROHM – UNIDADE I</b>		
Nome do aluno:		<b>Semana 10</b> <b>10 a 14/05/2021.</b>
Professoras: Denise, Edvânia, Dayane e Ana.	<b>PROJETO SEGUE</b>	<b>Turma: 2º Anos</b> <b>A, B, C e D.</b>
Componente Curricular: Português e Matemática	<b>Entrega: No e-mail da professora até o dia:</b> <b>14/05/2021.</b>	


ATIVIDADE DE PORTUGUÊS

PINTE O NÚMERO QUE REPRESENTA A QUANTIDADE DE SÍLABAS DE CADA PALAVRA.



**BOLA**

1	2	3	4
---	---	---	---




**DADO**

1	2	3	4
---	---	---	---



**ESCADA**

1	2	3	4
---	---	---	---



**APITO**

1	2	3	4
---	---	---	---




**SAPO**

1	2	3	4
---	---	---	---



**SAPATO**

1	2	3	4
---	---	---	---



**PATO**

1	2	3	4
---	---	---	---



**ESCOVA**

1	2	3	4
---	---	---	---



**ESPADA**


1	2	3	4
---	---	---	---

## ATIVIDADE DE MATEMÁTICA

VAMOS CONTAR ATÉ 10? VOCÊ SABIA QUE UMA DEZENA É FORMADA POR 10 ELEMENTOS?




PINTE UMA DEZENA DE MAÇÃS...



✿ UMA DEZENA DE MAÇÃS CORRESPONDE A



PINTE UMA DEZENA DE LARANJAS...



UMA DEZENA DE LARANJAS CORRESPONDE A

POR HOJE É SÓ! LEMBRANDO QUE NÃO É NECESSÁRIO IMPRIMIR. ENVIE A DEVOLUTIVA DA ATIVIDADE NO EMAIL DA PROFESSORA PARA GARANTIR SUA FREQUÊNCIA. VOCÊ É NOTA 10!!!